



PARA QUEM LEVA A EDUCAÇÃO A SÉRIO E FAZ DA VIDA UM ETERNO APRENDIZADO

Verificação Formativa de Matemática e Geografia

Professor(a) da Disciplina: Silvio e Gilmar	Data de entrega: 27/05/2020	1º TRIMESTRE
e-mail do professor tutor: umgst1@gmail.com		
Aluno (a):	Nº	Nota:
7º ano ____ Ensino Fundamental II	Período: Matutino	Valor da avaliação: 10,0

1. Considere a tabela abaixo:

ASSASSINATOS DE INDÍGENAS NO BRASIL E NO MATO GROSSO DO SUL											
ANO	2003	2004	2005	2006	2007	2008	2009	2010	2011	2012*	Total
Brasil	42	37	43	58	92	60	60	60	51	51	554
MS	13	16	28	28	53	42	33	34	32	31	310
MS(%)	31%	43%	65%	48%	58%	70%	55%	57%	63%	61%	56%

*De janeiro a novembro de 2012.

www.cimi.org.br. Acessado em 10/07/2013.

Com base na tabela e em seus conhecimentos, está correto o que se afirma em:

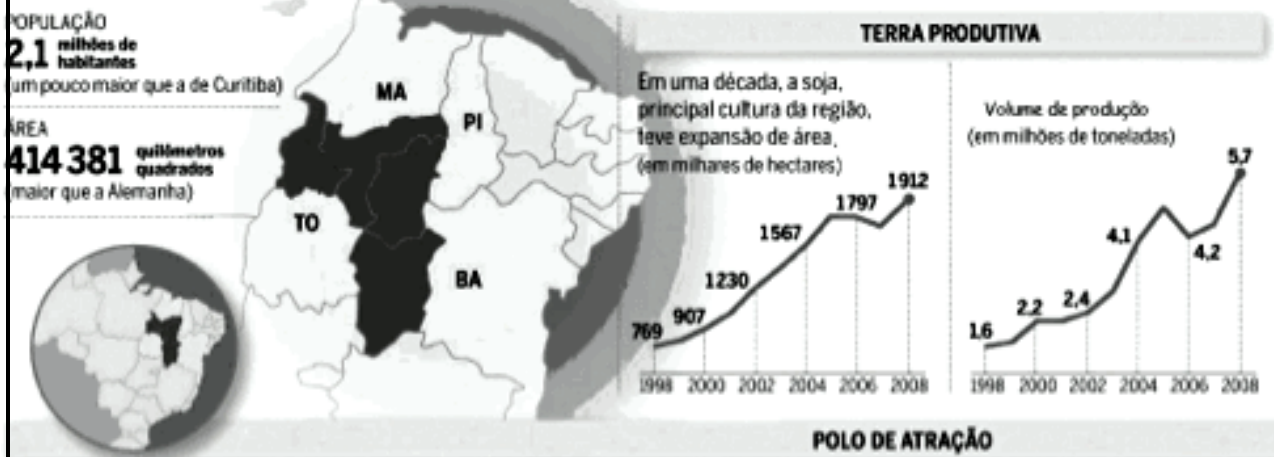
- O Mato Grosso do Sul apresenta menos de 50% de mortes de indígenas.
- A quantidade de indígenas assassinados no País diminuiu, principalmente, no Mato Grosso do Sul.
- No Mato Grosso do Sul, houve uma estabilização das mortes de indígenas.
- No período abrangido pela tabela, a participação do Mato Grosso do Sul no total de indígenas assassinados é muito alta, em consequência, principalmente, de disputas envolvendo a posse da terra.

2. *O interior nordestino é considerado como o lugar da seca, da terra inóspita e da miséria. Porém, surge, nesta sub-região, uma área que foi denominada pela população local de Mapitoba que, no cenário brasileiro atual, está sendo apresentada como uma das maiores potências do agronegócio.*

Observe as ilustrações e gráficos, a seguir:

Mais riqueza no interior

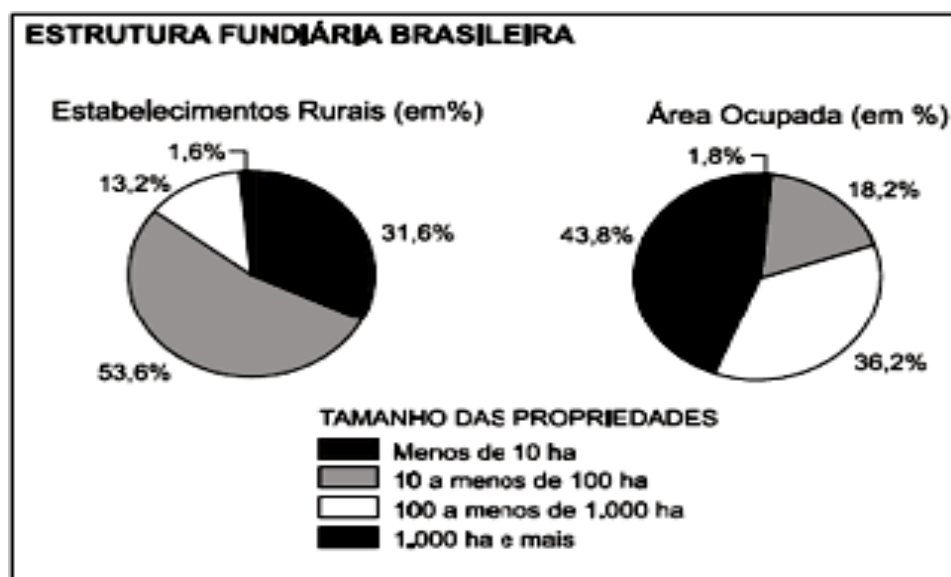
O Mapitoba já se destaca produzindo 10% da soja do país.



AgrafNP, Conab, Ícone e Ministério da Agricultura. Adaptação - Revista Exame - 15/07/2009 A análise dos dados indicados no texto, nas ilustrações e gráficos, acima, sobre a região de Mapitoba, SÓ permite afirmar que

- a) a área está geograficamente localizada em espaços de vegetação do cerrado das regiões centro-oeste e nordeste do Brasil.
- b) em uma década, a soja teve uma expansão aproximada de 150% das terras produtivas e quase quadruplicou o seu volume de produção.
- c) nos dois anos subsequentes ao ano de 2004, ocorreu uma estabilização do volume de produção e uma retração da ocupação das terras produtivas.
- d) o oeste baiano é a área mais promissora para a cana-de-açúcar, cuja produção deverá crescer e atrair a implantação de usinas de etanol na região.

3. Analise o gráfico para responder a próxima questão:



Fonte: INCRA 2003

Os gráficos revelam:

- a) pequena quantidade de propriedades, com até 100 ha, ocupando a maior parcela da área, o que significa uma distribuição desigual da terra.
- b) grande quantidade de propriedades, com mais de 1000 ha, correspondendo à maior parcela da área ocupada, o que significa uma distribuição equilibrada da terra.
- c) grande quantidade de propriedades, com até 100 ha, correspondendo às menores parcelas da área ocupada, o que significa uma distribuição desigual da terra.
- d) pequena quantidade de propriedades, de 100 a 1000 ha, ocupando a maior parcela da área, o que significa uma distribuição equitativa da terra.

4. O Espaço Agrário Brasileiro: Examine as cifras correspondentes ao volume de produção de três importantes produtos agrícolas, na tabela a seguir:

	I	II	III
Brasil	87 531 484	19 887 642	262 617 733
Norte	0,9	0,2	0,3
Nordeste	7,5	1,1	27,2
Sudeste	88,0	8,5	61,9
Sul	3,2	57,8	5,2
C. Oeste	0,4	32,4	5,4

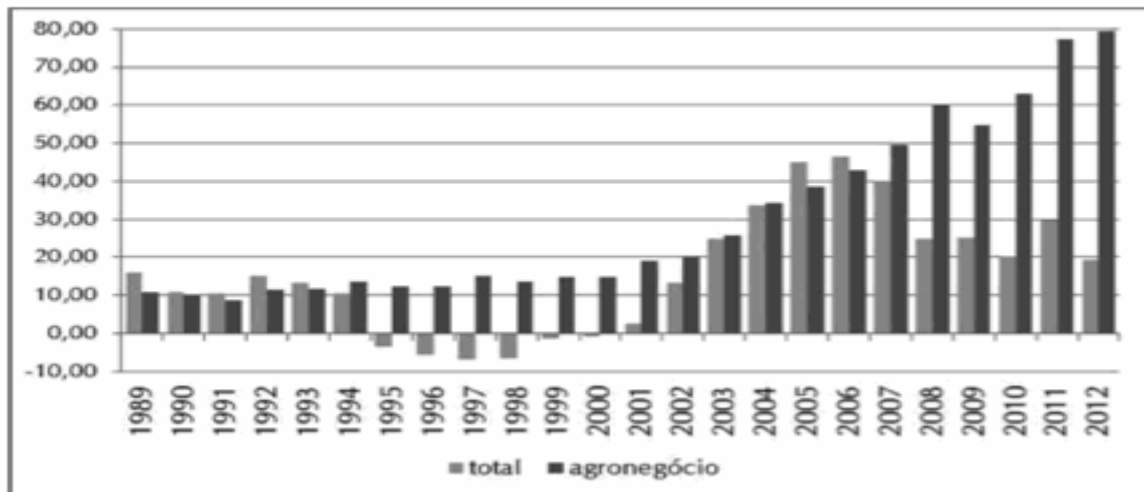
(IBGE, 1991)

Associando os dados acima aos conhecimentos referentes à agricultura brasileira, I, II e III correspondem, respectivamente, aos seguintes produtos:

- a) café / cana-de-açúcar / soja.
- b) milho / trigo / arroz.
- c) laranja / soja / cana-de-açúcar.
- d) café / milho / soja.
- e) laranja / cana-de-açúcar / trigo.

5. Analise o gráfico para responder a próxima questão:

EVOLUÇÃO DAS BALANÇAS COMERCIAIS DO AGRONEGÓCIO E TOTAL BRASILEIRA

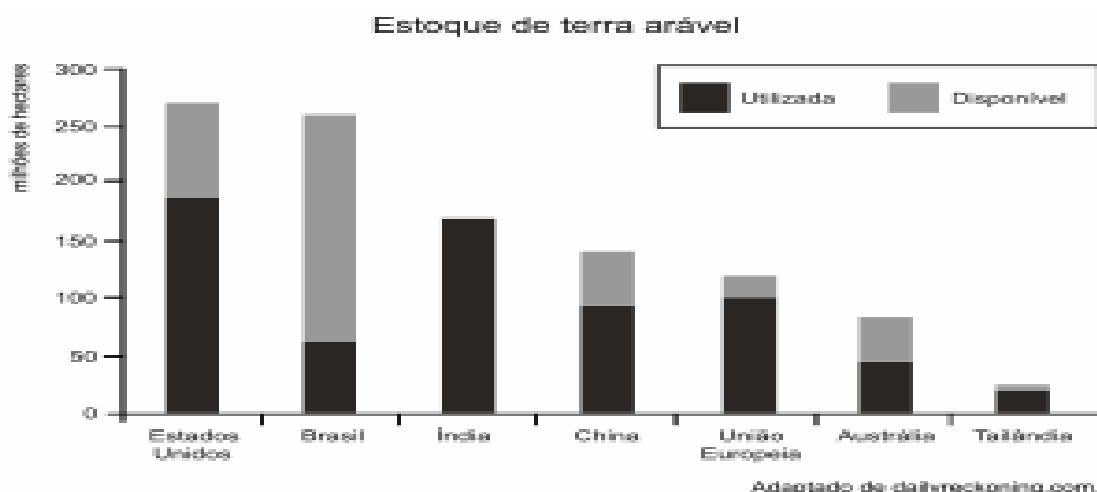


Fonte: MDIC / MAPA / Scot Consultoria - www.scotconsultoria.com.br
Disponível em: <http://www.ourofino.com>. Acesso em: 08/12/2013

A análise da balança comercial brasileira (resultado da diferença entre a importação e a exportação), no período mostrado no gráfico, permite concluir que:

- de 1995 a 1999, o agronegócio não exportou.
- o agronegócio nunca exportou nenhum gênero agrícola.
- o período mais negativo para o agronegócio está relacionado as fases de crise internacional.
- o agronegócio é responsável pelo maior volume de exportações do Brasil.

6. Observe o gráfico para responder a próxima questão:



A ampliação da oferta de alimentos é um dos maiores desafios da humanidade para as próximas décadas.

Com base na disponibilidade do recurso natural representada no gráfico, o país com maior potencial para expansão do seu setor agropecuário é:

- a) Índia
- b) China
- c) Brasil
- d) Estados Unidos

7. Analise o gráfico.



(www.ibge.gov.br/home/estatistica/indicadores/agropecuaria/lspa/lspa_201107comentarios.pdf)

A partir da leitura do gráfico e dos conhecimentos sobre a dinâmica territorial da agricultura brasileira, é correto afirmar que, no período analisado,

- a) a produtividade agrícola do país apresentou crescimento significativo.
- b) a área cultivada no país cresceu na mesma proporção da sua produção.
- c) o fraco aumento da área cultivada indicou que é preciso utilizar uma área maior.
- d) a produção não aumentou no período considerado.

8. Considere a tabela abaixo

Características dos estabelecimentos agropecuários, segundo tipo de agricultura-Brasil 2006.

Características	Agricultura familiar		Agricultura não familiar	
	Valor	Em %	Valor	Em %
Número de estabelecimentos	4.367.902	84,0	807.587	16,0
Área (milhões ha)	80,3	24,0	249,7	76,0
Mão de obra(milhões de pessoas)	12,3	74,0	4,2	26,0
Valor da produção(R\$ bilhões)	54,4	38,0	89,5	62,0
Receita(R\$ bilhões)	41,3	34,0	80,5	66,0

Fonte: Estatísticas do meio rural 2010 – 2011. MDA/DIESE. 2011. pp.181

Em relação aos aspectos do espaço rural brasileiro do século XXI, é correto afirmar:

a) Na estrutura fundiária do espaço rural brasileiro predominam estabelecimentos de agricultura não familiar..

b) No meio rural brasileiro prevalecem os estabelecimentos que desenvolvem agricultura familiar. c) A tabela acima representa a concentração de área nos estabelecimentos que desenvolvem agricultura familiar, ainda que o maior valor da produção e da receita sejam obtidos pela agricultura não familiar.

d) Há um grande número de estabelecimentos ocupados pela agricultura familiar, porém, a área ocupada é maior na agricultura não familiar

9. No início de século XXI, as boas oportunidades não se escondem mais nas grandes cidades nem nas capitais dos estados. A prosperidade e a riqueza, embaladas pelo sucesso do agronegócio, espalham-se pelo interior do país a uma velocidade inédita. O melhor exemplo dessa nova ordem é a Região Centro-Oeste. Os três estados que a compõem - Mato Grosso, Mato Grosso do Sul e Goiás - viram seu peso na economia brasileira aumentar espetacularmente.

	Centro-Oeste	Norte	Nordeste	Sul	Sudeste
1968	3,9%	2,2%	11,7%	16,7%	65,5%
2008	8,9%	5%	13,1%	16,6%	56,4%
VARIACÃO	↑128%	↑127%	↑12%	↓-0,6%	↓-14%

Fonte: IBGE

Revista Veja – Especial 40 Anos – Setembro/2008

Baseando-se nas informações e interpretação dos dados acima e nos seus conhecimentos sobre o assunto, **só não é CORRETO** afirmar que

a) em 1968, o PIB da região correspondia a, aproximadamente, 4% do PIB do país e, hoje, o

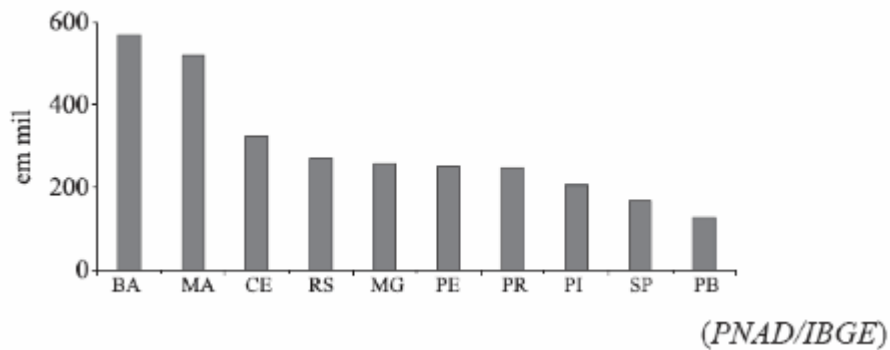
Centro-Oeste já participa com 8,9% da riqueza nacional.

b) o cultivo da soja e a criação de gado são as duas grandes atividades que sustentam o crescimento do campo, atualmente, na região Centro-Oeste.

c) o agronegócio foi o maior responsável pela mudança na paisagem do interior do País, nas últimas décadas.

d) os índices de crescimento e faturamento do agronegócio da região Centro-Oeste apresentam proporções equivalentes aos outros índices regionais.

10. Observe o gráfico que apresenta os 10 estados brasileiros com maior número de famílias com terras insuficientes para o sustento.



A leitura do gráfico e os conhecimentos sobre o campo brasileiro permitem afirmar que

- a região sul apresenta todos os estados com famílias que apresentam terras insuficientes.
- a região Nordeste é a que apresenta o maior número de pessoas com pouca terra.
- os estados do Norte são os que mais aparecem na lista.
- a presença de solos de baixa fertilidade associada às baixas taxas de investimentos dificultam o aumento da produção dos pequenos agricultores na região sudeste.